



महा.टॅलेंट सर्च परीक्षा, जळगाव इयत्ता दुसरी

विद्यार्थ्यांचे नाव -

वर्ष २३ वे

सीट नंबर -

--	--	--	--	--	--	--	--	--	--



उत्तरे नोंदविण्यापूर्वी खालील सर्वसामान्य सूचना वाचा.या सर्व माध्यमांसाठी सारख्याच आहेत.

- १) सर्वात महत्त्वाची सूचना मिळालेली प्रश्नपत्रिका ही आपल्याच वर्गाची (२ री ची) आहे की नाही याची खात्री करावी. परीक्षा झाल्यावर वेगळ्या वर्गाची अगर माध्यमाची प्रश्नपत्रिका बदलून पुन्हा परीक्षा घेतली जात नाही. (उत्तरे काळ्या उमटणाऱ्या बॉलपेननेच छायांकित करावीत.)
- २) मुख्य परीक्षेत प्रश्नपत्रिका मिळण्याआधी तुम्हाला तुमचे नाव, सीट नंबर, माध्यम व केंद्राचे नाव लिहिलेली उत्तरपत्रिका मिळते. सीट नंबर व नाव यावर कोणतीही गिरवागिरव अगर खाडाखोड करू नये. गिरवलेले अगर खाडाखोड केलेले नाव किंवा सीट नंबर संगणकाला वाचता येत नाही. पर्यायाने तुमची उत्तरपत्रिका तपासली जाणार नाही. उत्तरे नोंदविताना उत्तरपत्रिका फाटणार नाही याची काळजी घ्या. उत्तरपत्रिकेवर उत्तरांचे गोल छायांकित करण्याशिवाय काहीही लिहू नका, खाडाखोड करू नका अगर कोणताही डाग पडू देऊ नका. उत्तरपत्रिकेला घडी पडू देऊ नका.
- ३) या प्रश्नपुस्तिकेत भाषा (मराठी) व गणित - भाषा (इंग्रजी) व बुद्धिमत्ता असे क्रमाने एकूण १०० प्रश्न आहेत. उत्तरे लिहिण्यापूर्वी विद्यार्थ्यांनी ते पूर्ण १०० आहेत की नाहीत याची प्रथम खात्री करून घ्यावी. प्रश्नपुस्तिकेत कोरी पाने अगर अन्य काही दोष असल्यास प्रश्नपुस्तिका पर्यवेक्षकांकडून लगेच बदलून घ्यावी. परीक्षेनंतर ती तक्रार ग्राह्य धरली जाणार नाही.
- ४) उत्तरे नोंदविण्यासाठी स्वतंत्र उत्तरपत्रिका आहे. तुम्ही नोंदविणार असलेल्या उत्तरांचे वर्तुळ पूर्णपणे काळ्या उमटणाऱ्या बॉलपेननेच छायांकित करा. एका प्रश्नासाठी एकाच उत्तराचा पर्याय छायांकित करा. अर्धवट छायांकित केलेल्या किंवा वर्तुळाच्या बाहेर छायांकित केलेल्या वर्तुळाला गुण दिले जात नाहीत. वर्तुळाची कडा व आतील पूर्ण भाग छायांकित केला गेला पाहिजे.
- ५) प्रत्येक उत्तर काळजीपूर्वक व खात्री करून नोंदवा. कारण एकदा नोंदविलेले उत्तर बदलता येणार नाही. कोणीही तुम्हाला वेगळ्या पद्धतीने उत्तरे नोंदवायला सांगितली तरी त्यांचे ऐकू नका. उत्तर नोंदविण्याची योग्य पद्धत खालील प्रमाणे आहे.
: उदा. प्रश्न १ ① ② ③ ●
- ६) खालीलप्रमाणे छायांकित केलेली उत्तरे ग्राह्य धरली जात नाहीत.
उदा. ① ● ● ④ उदा. ● ● ③ ● उदा. ● ● ● ● उदा. ① ② ③ ④ उदा. ① ● ③ ④
- ७) उत्तराच्या वर्तुळात बरोबरची अगर चुकीची (✓) (X) खूण करू नका.
उदा. ✓ ② ③ ④ उदा. X ② ③ ④
- ८) परीक्षा सुरू असताना कोणाशीही बोलू नका अगर कोणाच्याही उत्तराची कॉपी करू नका. असे केल्यास तुम्हाला परीक्षागृहाबाहेर काढून टाकण्यात येईल. ९) उत्तरपत्रिकेवर सही करा.अन्यथा ती तपासली जाणार नाही. १०) पर्यवेक्षकांना प्रश्नांचा अर्थ, उत्तरे किंवा काहीही विचारू नका, त्यांनी कोणालाही उत्तरे सांगण्याचा प्रयत्न केल्याचे तुम्हाला आढळले तर केंद्रसंचालकांकडे लगेचच तक्रार करा. ११) प्रश्नपुस्तिका व परीक्षेचे ओळखपत्र निकालापर्यंत जपून ठेवा. १२) परीक्षा हॉलमध्ये मोबाईल व कॅल्क्युलेटर वापरण्यास परवानगी नाही. १३) परीक्षेचा निकाल www.mtsjalgaon.co.in या संकेतस्थळावर लागतो. याबाबत कोणीही फोन करू नये. १४) परीक्षेला जागेअभावी जमिनीवर सुद्धा बसावे लागते. त्यासाठी आसनपट्टी, पॅड सोबत नेणे आवश्यक आहे.

पेपर पहिला : मराठी व गणित (प्रश्न १ ते ५०)

प्र.01 ते 02 जोडून येणाऱ्या शब्दाचा (जोडशब्दाचा) योग्य क्रमांक छायांकित करा.

प्र.01 मान..... ① धरणे ② पान ③ मोडणे ④ धान

प्र.02 सोक्ष..... ① साक्ष ② पक्ष ③ मोक्ष ④ वृक्ष

प्र.03 'धनवान' च्या विरुद्धार्थी शब्दाचा योग्य क्रमांक छायांकित करा.

① श्रीमंत ② सुखी ③ निर्धन ④ पैसेवाला

प्र.04 'वाघ्या'चे स्त्रीलिंगी रूप ओळखून त्याचा क्रमांक छायांकित करा.

① मुरळी ② व्याघ्र ③ वाघीण ④ वाघोबा

प्र.05 एका मराठी म्हणीत उंटाच्या पाठीवरून हाकतात.

① शेळ्या ② मेंढ्या ③ कुत्रे ④ घोडे

प्र.06 'पक्षी' या शब्दाचे अनेकवचन कोणते ?

① पक्ष ② पक्षे ③ पक्ष्या ④ पक्षी

प्र.07 'म्हैस' या शब्दाच्या बदललेल्या लिंगाचा शब्द ओळखा.

① म्हस ② म्हसडा ③ म्हसोबा ④ रेडा

प्र.08 'शत्रू' या शब्दाच्या समानार्थी शब्द कोणता नाही ?

① रिपू ② दुश्मन ③ आरी ④ वैरी

प्र.09 जसे मुंग्यांचे वारूळ तसे पोळे कोणाचे ?

① कोळ्याचे ② पक्ष्यांचे ③ माशांचे ④ मधमाश्यांचे

प्र.10 घोड्यांचा पागा तसा हत्तींचा

① पिंजरा ② पीलखाना ③ चीत्कार ④ माहूत

प्र.11 आकाशातून पडणाऱ्या बर्फाच्या तुकड्यांना काय म्हणतात ?

① तारका ② गारपीट ③ गोळे ④ धूमकेतू

प्र.12 ते 15 गटात न बसणारे पद ओळखा.

प्र.12 ① तळे ② तलाव ③ सरिता ④ कासार

प्र.13 ① मामा ② मामी ③ बाप ④ भाऊ

प्र.14 ① उंदीर ② मंदीर ③ खंजीर ④ चंदेरी

प्र.15 ① पुस्तके ② गट्टा ③ रास ④ घड

प्र.16 एकशे बेचाळीस या संख्येत किमतीला मोठा अंक कोणता ?

- ① १ ② २
③ ४ ④ सर्व समान

Q.16 Which is the largest number in the number one hundred and forty two ?

- ① 1 ② 2 ③ 4 ④ All same

प्र.17 २०२४ च्या फेब्रुवारीत किती तारखेचा वार पाच वेळा येईल ?

- ① ५ तारखेचा ② २ तारखेचा
③ ४ तारखेचा ④ २९ तारखेचा

Q.17 In February 2024, day of which date will come five times ?

- ① the 5th ② the 2nd
③ the 4th ④ the 29st

प्र.18 खालीलपैकी चौरस वस्तू कोणती ?

- ① बांगडी
② एमटीएसचे पुस्तक
③ कॅरमबोर्ड ④ कंपासपेटी

Q.18 Which of the following is a square object ?

- ① Bangles ② Book of MTS
③ Carromboard
④ Compass box

प्र.19 ६० पेन्सिली ५ मुलांना सारख्या वाटल्या प्रत्येकाला किती पेन्सिली मिळतील ?

- ① 60×5 ② $60 - 5$
③ $60 + 5$ ④ $60 \div 5$

Q.19 Out of 60 pencils, how many pencils will each of the 5 children get ?

- ① 60×5 ② $60 - 5$
③ $60 + 5$ ④ $60 \div 5$

प्र.20 एका मुलीची सहलीची फी २५० रु असल्यास ३५ मुलींच्या सहलीची एकूण फी किती ?

- ① 250×35 ② $250 + 35$
③ $250 - 35$ ④ $250 \div 35$

Q.20 If the trip fee for one girl is Rs.250, what is the total cost of trip for 35 girls ?

- ① 250×35 ② $250 + 35$
③ $250 - 35$ ④ $250 \div 35$

कच्च्या कामासाठी जागा.....

प्र.21 १ ते २० पर्यंत विषम संख्या किती ?

- ① १९ ② १०
③ ११ ④ १३

Q.21 How many odd numbers are there from 1 to 20 ?

- ① 19 ② 10 ③ 11 ④ 13

प्र.22 दोन अंकी एकूण संख्या किती ?

- ① १०० ② ९९
③ ९० ④ ४५

Q.22 What is the total number of two digit numbers ?

- ① 100 ② 99 ③ 90 ④ 45

प्र.23 क = ३५ तर क + ? = ५०.

- ① ८५ ② १५ ③ २० ④ २५

Q.23 C = 35 then C + ? = 50

- ① 85 ② 15 ③ 20 ④ 25

प्र.24 चौदा साते किती ?


- ① १४७ ② ७१४
③ ९८ ④ ८४

Q.24 How much is seven times fourteen ?

- ① 147 ② 714 ③ 98 ④ 84

प्र.25 खालील आकृतीत असणारे एकूण चौकोन किती ?

- ① ३६ ② १८
③ २० ④ १०



Q.25 How many rectangles are there in the given figure below ?

- ① 36 ② 18
③ 20 ④ 10

प्र.26 अर्धा किलो साखर = किती ?

- ① १०० ग्रॅम ② २०० ग्रॅम
③ ५०० ग्रॅम ④ १००० ग्रॅम

Q.26 Half a kilo of sugar = how much ?

- ① 100 Gram ② 200 Gram
③ 500 Gram ④ 1000 Gram

कच्च्या कामासाठी जागा.....

प्र.27 १९८ नंतरची ३ री सम संख्या कोणती?

- ① १९९ ② २००
③ २०२ ④ २०४

Q.27 What is the third even number after 198 ?

- ① 199 ② 200
③ 202 ④ 204

प्र.28 ३२ ही संख्या पाच वेळा घेऊन केलेली बेरीज म्हणजे.....

- ① 32×5 ② $32 + 5$
③ $32 + 32 - 5$ ④ $32 + 32 \times 32$

Q.28 The sum of the number 32 taken five times is ?

- ① 32×5 ② $32 + 5$
③ $32 + 32 - 5$ ④ $32 + 32 \times 32$

प्र.29 ४९, ५०, ५१, ५२, ५३, ५२, ५१, ५० या संख्या क्रमाने लिहिल्यास मध्यभागी येणारी संख्या कोणती ?

- ① ५० ② ५१
③ ५२ ④ ५३

Q.29 If the numbers 49, 50, 51, 52, 53, 52, 51, 50 are written in the order, the middle number will be ?

- ① 50 ② 51 ③ 52 ④ 53

प्र.30 $38 + 38 + 4 =$ किती ?

- ① १२० ② ८०
③ ८४ ④ ७६

Q.30 $38 + 38 + 4 =$ How much ?

- ① 120 ② 80
③ 84 ④ 76

प्र.31 विराट कोहली ९२ वर आऊट झाला तर त्याचे शतक किती धावांनी हुकले ?

- ① १०० ② ९२
③ ८ ④ १८

Q.31 If Virat Kohli gets out on 92, by how many runs will he miss his century ?

- ① 100 ② 92 ③ 8 ④ 18

कच्च्या कामासाठी जागा.....

प्र.32 २०० मधून १५ वजा केल्यास उत्तर येईल.

- ① २१५ ② ११५
③ १८५ ④ ८५

Q.32 Subtracting 15 from 200 will give answer

- ① 215 ② 115
③ 185 ④ 85

प्र.33 एका शर्टला २२५ सेंमी कपडा लागतो तर २ शर्टसाठी किती मीटर कपडा लागेल ?

- ① सवादोन
② अडीच
③ चार
④ साडेचार

Q.33 If one shirt requires 225 cm cloth, how many metres of cloth will be required for 2 shirts ?

- ① two and one fourth
② Two and half ③ Four
④ Four and half

प्र.34 १०० च्या निम्मे किती ?

- ① २५ ② ७५ ③ ५०० ④ ५०

Q.34 What is half of 100 ?

- ① 25 ② 75 ③ 500 ④ 50


प्र.35 अ = ५, ब = ८, क = १० तर अ + ब - क = किती ?





- ① १३ ② २३ ③ १८ ④ ३


Q.35 If A = 5, B = 8, C = 10 then A + B - C = how much ?

- ① 13 ② 23 ③ 18 ④ 3

प्र.36

 = २०

 +  +  +  = 100

तर / then  म्हणजे किती ? / how much ?

- ① 20 ② 30 ③ 40 ④ 60

कच्च्या कामासाठी जागा.....

प्र.37 सतरा त्रिक किती ?

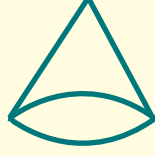
- ① ५१ ② १७३
③ ३१७ ④ ८५

Q.37 How much is three times seventeen ?

- ① 51 ② 173 ③ 317 ④ 85

प्र.38 ही आकृती कोणती ?

- ① त्रिकोण ② शंकू
③ दंडगोल ④ अर्धगोल



Q.38 Which figure is this ?

- ① Triangle ② Cone
③ Cylinder ④ Half circle

प्र.39 शंभराच्या पाच नोटा देऊन ५च्या किती नोटा मिळतील ?

- ① ५०० ② ५०
③ १०० ④ २५

Q.39 How many notes of 5 will you get after paying five notes of hundred ?

- ① 500 ② 50
③ 100 ④ 25

प्र.40 ५० नंतर सातच्या टप्प्याने एकूण ७ संख्या लिहिल्या तर शेवटची संख्या कोणती येईल ?

- ① ८५ ② ७८ ③ ९२ ④ ९९

Q.40 After seven steps of 50, total 7 numbers are written, which will be the last ?

- ① 85 ② 78 ③ 92 ④ 99

प्र.41 निकिताच्या आईने गाडीत ५ पेट्रोल भरले.

- ① ग्रॅम ② सेंटीलीटर
③ लीटर ④ मीटर

Q.41 Nikita's mother filled five petrol in a car.

- ① Gram ② Centiliter
③ Liter ④ Meter

कच्च्या कामासाठी जागा.....

प्र.42 दीड डझन केळी म्हणजे केळी.

- ① १२ ② ६
③ १८ ④ २४

Q.42 One and half dozen bananas = bananas.

- ① 12 ② 6 ③ 18 ④ 24

प्र.43 भारतीय सौर वर्षातील श्रावणाचे किती दिवस असतात ?

- ① २८ ② २९ ③ ३० ④ ३१

Q.43 How many days are there in 'Shravan' in Indian solar year?

- ① 28 ② 29 ③ 30 ④ 31

प्र.44 जुलै व ऑगस्ट महिन्यांचे एकूण दिवस किती ?

- ① ६१ ② ६०
③ ६२ ④ ५९

Q.44 How many total days are there in the month of July & August ?

- ① 61 ② 60 ③ 62 ④ 59

प्र.45 अधिवर्षात अधि महिना किती दिवसांचा असतो ?

- ① २८ ② २९ ③ ३६६ ④ ३६५

Q.45 How many days are there in a leap month in a leap year ?

- ① 28 ② 29 ③ 366 ④ 365

प्र.46 ८५ व १७ या दोन संख्यांतील अंतर किती आहे ?

- ① १७ ② ८५ ③ १०२ ④ ६८

Q.46 What is the difference between 85 and 17 ?

- ① 17 ② 85 ③ 102 ④ 68

कच्च्या कामासाठी जागा.....

प्र.47 ५०, ५५, ६५, या संख्या मालिकेतील रिकाम्या जागी येणाऱ्या संख्यांची बेरीज किती ?

- ① १२५ ② १३०
③ १३५ ④ ६०६५

Q.47 50, 55, 65, what is the sum of the numbers that come in empty space in this number series ?

- ① 125 ② 130
③ 135 ④ 6065

प्र.48 ८७ पासून मागे संख्या २ च्या टप्प्याने कमी करत गेल्यास ६ वी संख्या कोणती येईल ? जसे ८७, ८५,

- ① ७७ ② ७३
③ ७५ ④ ७९

Q.48 What will be the 6th number if we decrease the number backwards by steps of 2 ? like 87, 85,

- ① 77 ② 73 ③ 75 ④ 79

प्र.49 १५ च्या पाढ्यात कोणती संख्या येणार नाही ?

- ① २५ ② ३० ③ ४५ ④ ६०

Q.49 Which number will not come in table of 15 ?

- ① 25 ② 30 ③ 45 ④ 60

प्र.50 १५३ ही संख्या अक्षरात कशी लिहावी ?

- ① एकशे पस्तीस
② पाचशे त्रेपन्न
③ तीनशे त्रेपन्न
④ एकशे त्रेपन्न

Q.50 How to write 153 number in words ?

- ① One hundred & thirty five
② Five hundred & fifty three
③ Three hundred & fifty three
④ One hundred & fifty three

कच्च्या कामासाठी जागा.....

PAPER-II : Q.51 to 100

Q.51



Which part of the body is this?

- ① Lung ② Heart
③ Brain ④ Stomach

Q.52

The vehicle in the picture is used by...

- ① Policeman ② Principal ③ Doctor ④ Firefighter



Q.53

Which of these food items is not healthy to eat ?

- ① Chapati and dal ② Rice and curry
③ Burger and fries ④ Bread and honey

Q.54

Identify the festival shown in the given picture.

- ① Dussehra ② Navratri
③ Christmas ④ Eid



Q.55



What is the baby of this animal called ?

- ① Puppy ② Foal
③ Calf ④ Kitten





Q.56

Which of these animals make the sound 'ribbit' ?

- ① Frog ② Crows ③ Lion ④ Dog

Q.57

Which of the following birds cannot fly ?

- ①  ②  ③  ④ 

Q.58 to 60 Find the odd man out.





Q.58

- ① flutter ② cub ③ kitten ④ puppy

Q.59

- ①  ②  ③  ④ 

Q.60

- ①  ②  ③  ④ 

Q.61

Which of these animals live in water ?

- ① Dolphin ② Ostrich ③ Lady bird ④ Monkey

Q.62

Which of these animals does not have any legs ?

- ①  ②  ③  ④ 

Q.63

Who among the following was the first Lady President of India?

- ①  ②  ③  ④ 

Q.64

Which banknotes were demonetised by the government of India in 2023?

- ① ₹500 ② ₹1000 ③ ₹100 ④ ₹2000

Q.65

What does the car run on ?

- ① Water ② Kerosene ③ Petrol ④ Cooking oil

प्र.66 ते 71 गटात न बसणारे पद कोणते

- प्र.66 ① ७२ ② ७३
③ ७४ ④ ७६

प्र.67 ① ३०५ ② २०७ ③ १०९ ④ ४६०

- प्र.68 ① समर ② युद्ध
③ रणांगण ④ लढाई

- प्र.69 ① गाढव ② ससा
③ हत्ती ④ घोडा

Q.66 to 71 Find the odd man out.

- Q.66 ① 72 ② 73
③ 74 ④ 76

Q.67 ① 305 ② 207 ③ 109 ④ 460

- Q.68 ① Swift ② Quick
③ Play ④ Fast

- Q.69 ① Donkey ② Rabbit
③ Elephant ④ Horse

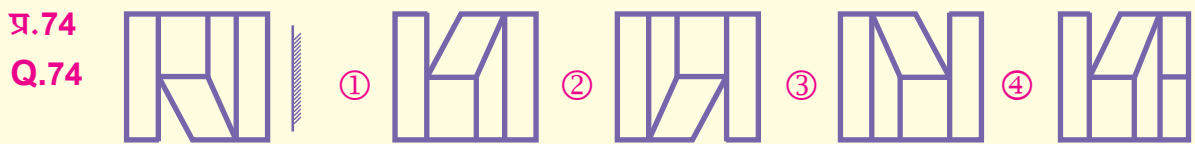
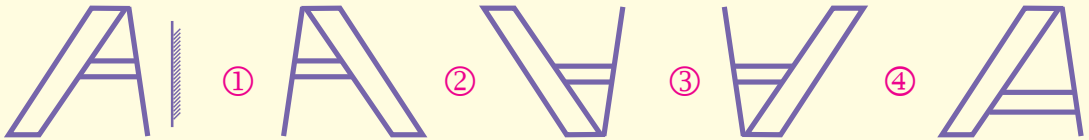


प्र.72 ३५ मुलांच्या रांगेत सुधाकर पुढून २७ व्या नंबरवर उभा आहे तर त्याच्या मागे किती मुले उभी आहेत ?
① ३५ ② २७
③ ९ ④ ८

Q.72 Sudhakar is standing at number 27 in the row of 35 children, how many children behind of him ?
① 35 ② 27
③ 9 ④ 8

प्र.73 खालील आकृतीची आरशातील प्रतिमा कशी असेल ?

Q.73 What will be the mirror image of the following figure ?



प्र.75 समान संबंध शोधा.

प्र.75 ७५ : ५३ :: ३६ : ?
① ६३ ② १८
③ ८१ ④ ८६

Q.75 Find the same relation.

Q.75 75 : 53 :: 36 : ?
① 63 ② 18
③ 81 ④ 86

प्र.76 ते 81 प्रश्नचिन्हाच्या जागी क्रमाने येणारे पद ओळखा.

प्र.76 १०, ११, १३, १६, २०, ?

- ① २१ ② २३
③ २५ ④ २६

प्र.77 २७, ३२, ४२, ५७, ?

- ① ६२ ② ६७ ③ ७२ ④ ७७

प्र.78 मुंगी, ससा, शेळी, घोडा, ?

- ① उंदीर ② कासव
③ मांजर ④ हत्ती

प्र.79 त, ति, तु, ते, ?

- ① तै ② तो
③ तौ ④ तं

Q.76 to 81 Identify the term at the place of question mark.

Q.76 10, 11, 13, 16, 20, ?

- ① 21 ② 23
③ 25 ④ 26

Q.77 27, 32, 42, 57, ?

- ① 62 ② 67 ③ 72 ④ 77

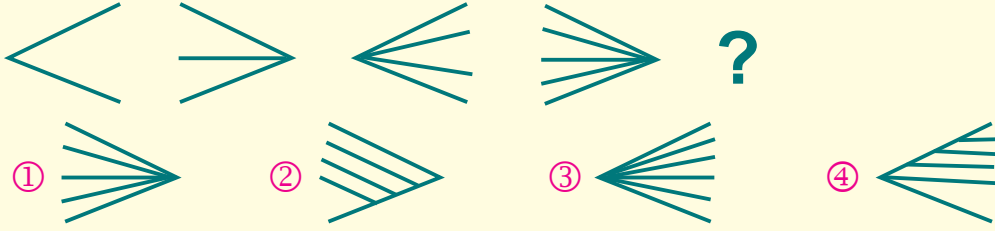
Q.78 Ant, Rabbit, Goat, Horse, ?

- ① Mouse ② Turtle
③ Cat ④ Elephant

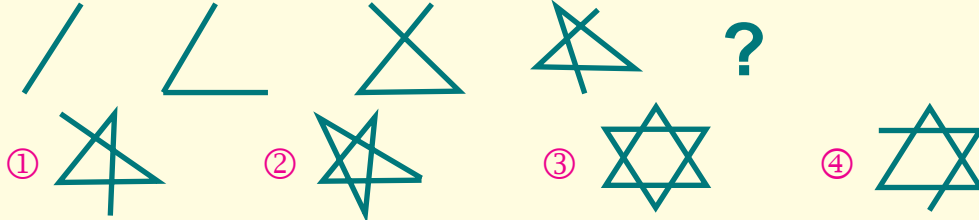
Q.79 M, O, Q, S, ?

- ① T ② U
③ P ④ R

प्र.80



प्र.81



प्र.82 जळगावला नाशिक म्हटले. नाशिकला पुणे, पुण्याला सिंधुदुर्ग व सिंधुदुर्गला जळगाव म्हटले तर पाण्यातला किल्ला पहायला कुठे जाल ?

- ① जळगाव ② सिंधुदुर्ग
③ नाशिक ④ पुणे

Q.82 If Jalgaon is called Nashik, Nashik is called Pune, Pune is called Sindhudurg and Sindhudurg is called Jalgaon, then where will you go to see sea fort ?

- ① Jalgaon ② Sindhudurg
③ Nashik ④ Pune

प्र.83 खालील पैकी गटात न बसणारे पद ओळखा.

- ① घोडा ② मासा
③ रेडा ④ बैल

Q.83 Identify the term which does not fit in the group from the following

- ① Horse ② Fish
③ Bison ④ Ox

प्र.84 आपण क्रांतीदिन कधी साजरा करतो ?

- ① चैत्र महिन्यात
② जानेवारीत
③ ऑगस्टमध्ये
④ डिसेंबरमध्ये

Q.84 When do we celebrate revolution day ?

- ① In the month of Chaitra
② In January ③ In August
④ In the month of December

प्र.85 गटात न बसणारा महिना कोणता ?

- ① जानेवारी ② फेब्रुवारी
③ मार्च ④ एप्रिल

Q.85 Which month does not fit in the group ?

- ① January ② February
③ March ④ April

प्र.86 ते 90 गटाशी जुळणारे पद ओळखा.

प्र.86 ७५, ६५, ४५, १५,

- ① ८५ ② ११५
③ १२५ ④ २३५

Q.86 to 90 Identify the term matching in the group.

Q.86 75, 65, 45, 15,

- ① 85 ② 115 ③ 125 ④ 235

प्र.87 ११२, १२२, १५९, १८३,

- ① ३५८ ② ४९९
③ १४८ ④ २५७

Q.87 112, 122, 159, 183,

- ① 358 ② 499
③ 148 ④ 257

प्र.88 रात्र, पक्षी, घोडा, माठ,

- ① मैत्री ② बकरा
③ सकाळ ④ धनवान

Q.88 Wait, Each, Four, Make

- ① Good ② Wash
③ Mark ④ Rich


प्र.89 सुभाष, सुनंदा, सुनील, सुगंधा,

- ① सुखदा ② सुरेशचंद्र
③ सुनेत्रा ④ सुप्रिया

Q.89 Woman, Wood, Wonder, World

- ① Work ② Wheel
③ Whole ④ Warrior

प्र.90



प्र.91 २८ जानेवारी २०२४ ला रविवार असल्यास लगेच पुढच्या रविवारी येणारी तारीख कोणती ?
① २९/२/२४ ② ३१/३/२४
③ ३/२/२४ ④ ४/२/२४

Q.91 If 28th January 2024 is on Sunday, then what is date on the next Sunday ?
① 29 / 2 / 24 ② 31 / 3 / 24
③ 3 / 2 / 24 ④ 4 / 2 / 24

प्र.92 ग्रेगरियन वर्षात ३१ दिवसांचे महिने किती ?
① ७ ② ६ ③ ५ ④ ४

Q.92 How many months of 31 days in a Gregorian year ?
① 7 ② 6 ③ 5 ④ 4

प्र.93 स न म न च म न व म न ध न न र म या मालिकेत सर्वाधिक वेळा येणारे अक्षर कोणते ?
① न ② म ③ ध ④ व

Q.93 a d f a d f a a d f a d f a f n a
Which is the most frequent letter in the series?
① a ② f ③ d ④ n

प्र.94 वरील ९३ व्या प्रश्नातील मालिकेत बरोबर मध्यभागी येणारे अक्षर कोणते ?
① म ② न ③ ध ④ व

Q.94 Which is the middle letter in the series in question 93 above ?
① a ② f ③ n ④ d


प्र.95 ४५६३५४६५६९४५३५ या अंकमालिकेत ४ नंतर लगेच ५ किती वेळा आले आहेत ?
① दोनदा ② तीनदा
③ चारदा ④ पाचदा

Q.95 How many times 5 immediately comes after 4 in the number series : 45635465694535
① Two times ② Three times
③ Four times ④ Five times

प्र.96 माझ्या आईला तीन बहिणी आहेत तर माझ्या मामाला किती बहिणी असतील ?
① तीन ② दोन
③ चार ④ एकच

Q.96 My mother has three sisters and how many sisters will my maternal uncle have ?
① Three ② Two
③ Four ④ Only one

प्र.97 व 98 दिलेल्या आकृतीचे निरीक्षण करून योग्य पर्यायांक छायांकित करा.



Q.97 to 98 Observe the diagram and shade the correct alternative number.

प्र.97 तिन्ही आकृत्यांना सामाईक चांदण्या किती ?
 ① एक ② सहा
 ③ चार ④ एकही नाही

Q.97 How many stars are common to all three figures ?
 ① One ② Six
 ③ Four ④ None

प्र.98 फक्त वर्तुळात असणाऱ्या चांदण्या किती ?
 ① सहा ② चार
 ③ बारा ④ तीन


Q.98 How many stars are in the circle only ?
 ① Six ② Four
 ③ Twelve ④ Three

प्र.99 मध्यान्ह रात्री वस्तूची सावली कोठे पडेल ?
 ① डावीकडे ② उजवीकडे
 ③ पायाखाली ④ यापेक्षा वेगळे उत्तर

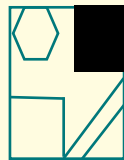
Q.99 Where will the object shadow fall at midnight ?
 ① Left ② Right
 ③ Under foot
 ④ Different answer than this

प्र.100 अपूर्ण आकृतीत प्रश्नचिन्हाच्या जागी पर्यायातील कोणती आकृती दिशा न बदलता बसविल्यास ती आकृती पूर्ण होईल ?

Q.100 Which figure from the alternative will complete the incomplete figure in place of the question mark ?



①



②



③



④



ही सूचना आम्ही वाचली नाही.लक्षात राहिले नाही.असे कृपया सांगू नका.

परीक्षेनंतर १० ते १५ दिवसांत फक्त एक महिन्यासाठी विद्यार्थ्यांनी सोडविलेल्या उत्तरपत्रिका स्कॅन करून वेबसाईटवर टाकल्या जातील.आमच्या उत्तरसूचीत काही दोष असल्यास उत्तरसूची जाहीर झाल्यापासून १० दिवसांचे आत स्पष्टीकरणासह पोष्टाने जळगाव कार्यालयात लेखी कळवावे. मेलवर किंवा व्हॉट्सअॅपवर पाठवू नये. आमच्या उत्तरसूचित काही दोष असल्यास ते दूर करूनच निकाल तयार केला जातो. प्रश्नच चुकीचा असेल तर त्याचे गुण सर्वांनाच दिले जातात.आपल्या पाल्याची उत्तरपत्रिका डाऊनलोड करून ठेवावी. पुढे केव्हाही तक्रार करताना तिची प्रिंट आवश्यक असते. याबाबत कोणीही फोन करू नये. वेबसाईट वरील सूचना वाचाव्यात.आपला पाल्य राज्यस्तरीय गुणवत्ता यादीत आल्यास त्याच्या स्कॉलरशीपचा अकॉउंटपेयी चेक त्याच्याच नावाने एकदाच दिला जातो. म्हणून विद्यार्थ्यांच्या नावाने बँकेत खाते काढून ठेवा.आम्ही दिलेल्या चेकवरील नाव अगर तारीख बदलून दिली जात नाही.आपला पाल्य केंद्रस्तरीय गुणवत्ता यादीत आल्यास त्याला ट्रॉफी मिळेल. गुणपत्रिका, गुणवत्ताधारकांचे ट्रॉफी व प्रशस्तिपत्र जूनमध्ये शाळा सुरू झाल्यावर १५ ते २० दिवसांनी स्थानिक प्रतिनिधीमार्फत शाळेतच मिळतात. याबाबत आपल्या स्थानिक प्रतिनिधीशी संपर्क करावा. आमचेकडे संगणक,इंटरनेट नाही, आम्ही निकाल वेळेत पाहिला नाही, आम्हाला शाळेत किंवा कोणी सांगितले नाही ही कारणे चालणार नाहीत. सर्वांसाठी एकच नियम असेल.वेळोवेळी आमच्या संकेत स्थळावरील सूचना वाचत रहा. १५ ऑगस्ट २०२४ नंतर या परीक्षेचे कोणतेही रेकॉर्ड उपलब्ध नसेल.निकाल मिळाला नाही तर प्रथम आपल्या स्थानिक एमटीएस प्रतिनिधींशी संपर्क करा. नंतरच आमचेकडे लेखी तक्रार करा.सर्व पत्रव्यवहार पोस्टाने अगर कुरीअरने आमचे जळगाव पत्त्यावर करावा. मेलवर किंवा व्हॉट्सअॅपवर काहीही पाठवू नये. परीक्षेनंतर निकालापर्यंत कोणीही मोबाईलवर संपर्क करू नये. या काळात मोबाईलवर अनोळखी नंबर रिसिव्ह केले जात नाहीत. त्यामुळे गैरसमज निर्माण होतात.

उत्तरपत्रिका फेरतपासणी अर्ज नमुना (अंतिम मुदत : २८/०२/२०२४)

विद्यार्थ्यांचे नाव -

बैठक क्रमांक -

परीक्षेचे माध्यम -

परीक्षेचे सेंटर -

पालकांचा घरचा पूर्ण पत्ता - पीनकोड (आवश्यक)

पालकांचा मोबाईल नंबर -

सोबत जोडावयाची वेबसाईट वरून काढलेली कागदपत्रे -

(१) गुणपत्रिका, (२) विद्यार्थ्यांची उत्तरपत्रिका, (३) आमची उत्तरसूची, (४) MAHARASHTRA

TALENT SEARCH PARIKSHA JALGAON या नावाचा रु.७००/- चा सरकारी बँकेचा डीडी व

(५) स्वतःच्या घरच्या पत्त्याचे तिकीट नसलेले पाकीट (६) परीक्षेचे हॉलतिकीट

यापैकी एकही कागद नसल्यास फेरतपासणी होणार नाही. फेरतपासणीत गुणांत बदल होऊ शकतो.

गुण कमीही होऊ शकतात. वाढूही शकतात. गुणांची वाढ झाल्यास रु.७००/- चा हाच डीडी परत

केला जाईल. फेरतपासणी नंतर विद्यार्थ्यांच्या उत्तरपत्रिकेची रंगीत झेरॉक्स प्रत दिली जाते.

पालकाची सही

विद्यार्थ्यांची सही

2

दुसरी २२८१२४

www.mtsjalgaon.co.in

16