



# महा.टॅलेंट सर्च परीक्षा, जळगाव इयत्ता तिसरी

विद्यार्थ्यांचे नाव - .....



वर्ष २३ वे

सीट नंबर -

--	--	--	--	--	--	--	--	--	--

उत्तरे नोंदविण्यापूर्वी खालील सर्वसामान्य सूचना वाचा.या सर्व माध्यमांसाठी सारख्याच आहेत.

- १) सर्वात महत्त्वाची सूचना मिळालेली प्रश्नपत्रिका ही आपल्याच वर्गाची ( २ री ची ) आहे की नाही याची खात्री करावी. परीक्षा झाल्यावर वेगळ्या वर्गाची अगर माध्यमाची प्रश्नपत्रिका बदलून पुन्हा परीक्षा घेतली जात नाही. (उत्तरे काळ्या उमटणाऱ्या बॉलपेननेच छायांकित करावीत.)
- २) मुख्य परीक्षेत प्रश्नपत्रिका मिळण्याआधी तुम्हाला तुमचे नाव, सीट नंबर, माध्यम व केंद्राचे नाव लिहिलेली उत्तरपत्रिका मिळते. सीट नंबर व नाव यावर कोणतीही गिरवागिरव अगर खाडाखोड करू नये. गिरवलेले अगर खाडाखोड केलेले नाव किंवा सीट नंबर संगणकाला वाचता येत नाही. पर्यायाने तुमची उत्तरपत्रिका तपासली जाणार नाही. उत्तरे नोंदविताना उत्तरपत्रिका फाटणार नाही याची काळजी घ्या. उत्तरपत्रिकेवर उत्तरांचे गोल छायांकित करण्याशिवाय काहीही लिहू नका, खाडाखोड करू नका अगर कोणताही डाग पडू देऊ नका. उत्तरपत्रिकेला घडी पडू देऊ नका.
- ३) या प्रश्नपुस्तिकेत भाषा (मराठी) व गणित - भाषा ( इंग्रजी ) व बुद्धिमत्ता असे क्रमाने एकूण १०० प्रश्न आहेत. उत्तरे लिहिण्यापूर्वी विद्यार्थ्यांनी ते पूर्ण १०० आहेत की नाहीत याची प्रथम खात्री करून घ्यावी. प्रश्नपुस्तिकेत कोरी पाने अगर अन्य काही दोष असल्यास प्रश्नपुस्तिका पर्यवेक्षकांकडून लगेच बदलून घ्यावी. परीक्षेनंतर ती तक्रार ग्राह्य धरली जाणार नाही.
- ४) उत्तरे नोंदविण्यासाठी स्वतंत्र उत्तरपत्रिका आहे. तुम्ही नोंदविणार असलेल्या उत्तरांचे वर्तुळ पूर्णपणे काळ्या उमटणाऱ्या बॉलपेननेच छायांकित करा. एका प्रश्नासाठी एकाच उत्तराचा पर्याय छायांकित करा. अर्धवट छायांकित केलेल्या किंवा वर्तुळाच्या बाहेर छायांकित केलेल्या वर्तुळाला गुण दिले जात नाहीत. वर्तुळाची कडा व आतील पूर्ण भाग छायांकित केला गेला पाहिजे.
- ५) प्रत्येक उत्तर काळजीपूर्वक व खात्री करून नोंदवा. कारण एकदा नोंदविलेले उत्तर बदलता येणार नाही. कोणीही तुम्हाला वेगळ्या पद्धतीने उत्तरे नोंदवायला सांगितली तरी त्यांचे ऐकू नका. उत्तर नोंदविण्याची योग्य पद्धत खालील प्रमाणे आहे  
: उदा. प्रश्न १ ① ② ③ ●
- ६) खालीलप्रमाणे छायांकित केलेली उत्तरे ग्राह्य धरली जात नाहीत.  
उदा. ① ● ● ④ उदा. ● ● ③ ● उदा. ● ● ● ● उदा. ① ② ③ ④ उदा. ① ● ③ ④
- ७) उत्तराच्या वर्तुळात बरोबरची अगर चुकीची (✓) (X) खूण करू नका.  
उदा. ● ② ③ ④ उदा. X ② ③ ④
- ८) परीक्षा सुरू असताना कोणाशीही बोलू नका अगर कोणाच्याही उत्तराची कॉपी करू नका. असे केल्यास तुम्हाला परीक्षागृहाबाहेर काढून टाकण्यात येईल. ९) उत्तरपत्रिकेवर सही करा.अन्यथा ती तपासली जाणार नाही. १०) पर्यवेक्षकांना प्रश्नांचा अर्थ, उत्तरे किंवा काहीही विचारू नका, त्यांनी कोणालाही उत्तरे सांगण्याचा प्रयत्न केल्याचे तुम्हाला आढळले तर केंद्रसंचालकांकडे लगेचच तक्रार करा. ११) प्रश्नपुस्तिका व परीक्षेचे ओळखपत्र निकालापर्यंत जपून ठेवा. १२) परीक्षा हॉलमध्ये मोबाईल व कॅल्क्युलेटर वापरण्यास परवानगी नाही. १३) परीक्षेचा निकाल [www.mtsjalgaon.co.in](http://www.mtsjalgaon.co.in) या संकेतस्थळावर लागतो. याबाबत कोणीही फोन करू नये. १४) परीक्षेला जागेअभावी जमिनीवर सुद्धा बसावे लागते. त्यासाठी आसनपट्टी, पॅड सोबत नेणे आवश्यक आहे.

पेपर पहिला : मराठी व गणित (प्रश्न १ ते ५०)

- प्र.01 उंटाची मादी कोण ?  
① उंटीण ② उंटणी ③ सांडणी ④ उंटिणी
- प्र.02 'मोहक' या शब्दाची जात ओळखा.  
① नाम ② सर्वनाम ③ क्रियापद ④ विशेषण
- प्र.03 गटात न बसणारा शब्द कोणता ?  
① स्त्री ② बादली ③ विहीर ④ पक्षी
- प्र.04 मी मोठेपणी डॉक्टर होणार ! या वाक्याचा काळ ओळखा.  
① वर्तमानकाळ ② भूतकाळ ③ भविष्यकाळ ④ चालूकाळ
- प्र.05 'रात्र थोडी ..... फार.' म्हण पूर्ण करा.  
① भूते ② चांदण्या ③ सोंगे ④ तारे
- प्र.06 गटात न बसणारा शब्द कोणता ?  
① स्वतंत्र ② परतंत्र ③ स्वायत्त ④ स्वाधीन
- प्र.07 डोंगरातील दगडात कोरलेले शिल्प म्हणजे .....  
① लेणी ② घाट ③ बोगदा ④ भूयार
- प्र.08 आपण गणपतीला दुर्वाची ..... वाहतो.  
① जुडी ② रास ③ काडी ④ गड्डी
- प्र.09 प्रश्न क्र.४ मध्ये कोणते विरामचिन्ह वापरले आहे ?  
① स्वल्पविराम ② प्रश्नचिन्ह ③ उद्गारचिन्ह ④ अवतरण चिन्ह
- प्र.10 जर गाईसारखा = गरीब, तर कुत्र्यासारखा = ?  
① लबाड ② ईमानदार ③ देखणा ④ लाळघोट्या
- प्र.11 हत्तींना ठेवतात त्या जागेला काय म्हणतात ?  
① पीलखाना ② अंबारी ③ माहूत ④ खुराडे
- प्र.12 नाटक पाहून ..... टाळ्या वाजविल्या.  
① कलाकारांनी ② वक्त्यांनी ③ श्रोत्यांनी ④ प्रेक्षकांनी
- प्र.13 अशुद्ध शब्द ओळखा.  
① मासिक ② परीघ ③ सरिता ④ विमानिक
- प्र.14 शुद्ध शब्द ओळखा.  
① पुथ्वी ② पिवशी ③ मैत्रेय ④ नुसकान
- प्र.15 गटात न बसणारा शब्द कोणता ?  
① धडधड ② पडझड ③ छनछन ④ कलकल

प्र.16 ते 20 गटात न बसणारी संख्या ओळखा.

प्र.16 ① ३३० ② ५०५ ③ ४४० ④ ८८०

प्र.17 ① ३१ ② ४१ ③ ५१ ④ ६१

प्र.18 ① ११७ ② ३३३ ③ ४४४ ④ २६१

प्र.19 ① ८३५ ② ४८४ ③ ७२७ ④ ५५८

प्र.20 ① २४० ② ३०६ ③ ८२२ ④ ९३२

प्र.21 सदुसष्ट ही संख्या सदुसष्ट वेळा घेऊन केलेली बेरीज कोणती ?

①  $६७ \times ६७$  ②  $६७ + ६७$

③  $६७ \times ६७ + ६७$  ④  $६७ \div ६७$

प्र.22 ते 26 गटाशी जुळणारी संख्या शोधा.

प्र.22 ३२२, ३४१, २१६, ?

① ८१८ ② ६१२

③ ४३२ ④ ६१६

प्र.23 (२,३,५,७), (११,१३,१७,१९),  
(२३,२९), ?

① ३३,३५,३७ ② ३१,३३,३५

③ ३१,३७,३९ ④ ३१,३७

Q.16 to 20 Find the odd man out.

Q.16 ① 330 ② 505 ③ 440 ④ 880

Q.17 ① 31 ② 41 ③ 51 ④ 61

Q.18 ① 117 ② 333 ③ 444 ④ 261

Q.19 ① 835 ② 484 ③ 727 ④ 558

Q.20 ① 240 ② 306 ③ 822 ④ 932

Q.21 What is the sum of the number sixty seven, sixty seven times ?

①  $67 \times 67$  ②  $67 + 67$

③  $67 \times 67 + 67$  ④  $67 \div 67$

Q.22 to 26 Find the matching term.

Q.22 322, 341, 216, ?

① 818 ② 612

③ 432 ④ 616

Q.23 (2,3,5,7), (11,13,17,19),  
(23,29), ?

① 33,35,37 ② 31,33,35

③ 31,37,39 ④ 31,37

कच्च्या कामासाठी जागा.....

प्र.24 ४, १६, ३६, ?

- ① २६                      ② ६४  
③ ३०                      ④ २२

Q.24 4, 16, 36, ?

- ① 26                      ② 64  
③ 30                      ④ 22

प्र.25 ८७५६, ९३२७, ४८३२

- ① ६६१२                      ② ६४८८  
③ ७३२१                      ④ ५२२१

Q.25 8756, 9327, 4832 ?

- ① 6612                      ② 6488  
③ 7321                      ④ 5221

प्र.26 ३२१६, ४१३८, १२३६ ?

- ① ४४१९                      ② ५२७३  
③ ८००४                      ④ ३३९७

Q.26 3216, 4138, 1236 ?

- ① 4419                      ② 5273  
③ 8004                      ④ 3397

प्र.27 दोन संख्यांचा गुणाकार २२५ आहे. त्यातील मोठी संख्या २५ असल्यास लहान संख्या कोणती ?

- ① २    ② ६    ③ ९    ④ ८

Q.27 The product of two number is 225. If the largest number is 25, what is the smallest number ?

- ① 2    ② 6    ③ 9    ④ 8

प्र.28 ४०० ही संख्या २२० पेक्षा कितीने मोठी आहे ?

- ① ४०० ने                      ② २२० ने  
③ २८० ने                      ④ १८० ने

Q.28 How much is the number 400 greater than 220 ?

- ① By 400                      ② By 220  
③ By 280                      ④ By 180

कच्च्या कामासाठी जागा.....

प्र.29 एका पुस्तकाची किंमत १७५ रुपये आहे व दुसऱ्या पुस्तकाची किंमत त्याच्यापेक्षा २५ रुपयांनी जास्त आहे तर दोन्ही पुस्तकांची किंमत किती ?

- ① ₹ २००                      ② ₹ २२५  
③ ₹ ३५०                      ④ ₹ ३७५

Q.29 If the price of one book is Rs.175 and the price of another book is Rs.25 more than that, then what is the price of both the books ?

- ① ₹ 200                      ② ₹ 225  
③ ₹ 350                      ④ ₹ 375

प्र.30 ३६० रु.ला एक डझन पेन तर १० पेनांची किंमत किती ?

- ① ₹ ३६००                      ② ₹ १२०  
③ ₹ ३००                      ④ ₹ ३०००

Q.30 If the cost of one dozen pens is Rs.360, then what is the value of 10 pens ?

- ① ₹ 3600                      ② ₹ 120  
③ ₹ 300                      ④ ₹ 3000

प्र.31 पाव हजार म्हणजे किती ?

- ① २५०                      ② ७५०  
③ ५००                      ④ ८५०

Q.31 How much is a quarter thousand ?

- ① 250 ② 750 ③ 500 ④ 850

प्र.32 नऊशे नऊ ला नऊ ने भागल्यास भागाकार किती ?

- ① ०                      ② १०१  
③ ९०९                      ④ १००

Q.32 If nine hundred and nine is divided by nine, what is the quotient ?

- ① 0 ② 101 ③ 909 ④ 100

कच्च्या कामासाठी जागा.....

प्र.33 एका घराचे घरभाडे १०००० रु. होते. भाडेकरुने ९७५० रु. दिले तर त्याने किती भाडे कमी दिले ?

- ① ₹५०                      ② ₹१५०  
③ ₹२५०                      ④ ₹४५०

Q.33 The rent of a house is Rs.10000. If rental paid ₹9750 then how much less rent did he pay ?

- ① ₹50                      ② ₹150  
③ ₹250                      ④ ₹450

प्र.34 चुकीची जोडी ओळखा.

- ①  $\frac{१}{२}$  = अर्धा                      ②  $\frac{१}{३}$  = पाऊण  
③  $\frac{१}{४}$  = पाव                      ④  $\frac{४}{४}$  = पूर्ण

Q.34 Identify the wrong pair.

- ①  $\frac{1}{2}$  = half    ②  $\frac{1}{3}$  = three quarter  
③  $\frac{1}{4}$  = quarter    ④  $\frac{4}{4}$  = complete

प्र.35  $५ \times ५ + ५ \times ५ =$  किती ?

- ① १५०                      ② २५०  
③ ५०                      ④ २०

Q.35  $5 \times 5 + 5 \times 5 = ?$

- ① 150                      ② 250  
③ 50                      ④ 20

प्र.36 खालीलपैकी सर्वात स्वस्त वस्तू कोणती ?

- ① २५ रु.त अर्धाकिलो साखर  
② २५ रु.त १ लिटर तेल  
③ ४० रु.त एक किलो पपई  
④ २० रु.त पावभर सीताफळ

Q.36 Which of the following is the cheapest item ?

- ① An half kg of sugar at Rs.25  
② Rs.25 per liter of oil.  
③ One kg. of papaya at Rs.40  
④ One fourth kg of custardapple in Rs.20

कच्च्या कामासाठी जागा.....

प्र.37 १८ चा पाढा ९ आणि ..... या दोन संख्यांच्या पाढ्यांनी मिळून तयार होईल.  
① ९ ② १०  
③ ८ ④ २

Q.37 The table of 18 can be prepared including the tables of 9 and .....  
① 9 ② 10 ③ 8 ④ 2

प्र.38 ३२००० मीटर रस्त्यापैकी अर्धा रस्ता तयार झाला तर किती रस्ता तयार झाला नाही ?  
① १६००० किमी ② १६० किमी  
③ १६ किमी ④ १६०० किमी

Q.38 If half of the 32000 meter road is constructed, how much road is left constructed ?  
① 16000 km ② 160 km  
③ 16 km ④ 1600 km

प्र.39 नववर्ष दिनी रविवार असल्यास त्या जानेवारीत किती रविवार असतील ?  
① ४ ② ५  
③ ६ ④ ३

Q.39 If New year's day is Sunday, how many Sundays will there be in January ?  
① 4 ② 5 ③ 6 ④ 3

प्र.40 तुमची MTS परीक्षा झाली त्या वर्षात फेब्रुवारीचे किती दिवस येतील ?  
① २८ ② २९ ③ ३० ④ ३१

Q.40 How many days of February will fall in the year in which your MTS exam. took place ?  
① 28 ② 29 ③ 30 ④ 31

प्र.41 दिलीप पाटलांच्या क्लासला ९ नोव्हेंबर ते १५ डिसेंबर अखेर दिवाळीची सुटी होती तर क्लास किती दिवस बंद होता ?  
① २२ ② ३६  
③ ३७ ④ ३८

Q.41 Dilip Patil's class had Diwali holidays from 9<sup>th</sup> November to 15<sup>th</sup> December then for how many days was the class closed ?  
① 22 ② 36 ③ 37 ④ 38

कचच्या कामासाठी जागा.....

प्र.42 ..... मिली म्हणजे अर्धालीटर.

- ① २५०                      ② ५००  
③ ७५०                      ④ १५००

Q.42 ..... ml. is half liter.

- ① 250                      ② 500  
③ 750                      ④ 1500

प्र.43 चुकीची जोडी ओळखा.

- ① १ शतक = १००  
② २ डझन = २४ वस्तू  
③ ७५० ग्रॅम = पाव कि.ग्रॅ.  
④ ६ किमी = ६००० मीटर

Q.43 Identify the wrong pair.

- ① 1 century = 100  
② 2 dozen = 24 items  
③ 750 gram = quarter kg.  
④ 6 km = 6000 meter

प्र.44 साडेबारा वाजता घड्याळाचा मिनीटकाटा कुठे असतो ?

- ① ६ वर                      ② १२ वर  
③ ९ वर                      ④ १२ व १ च्या मध्ये

Q.44 At half past twelve, where is the minute hand of clock ?

- ① On 6                      ② On 12  
③ On 9                      ④ In between 12 and 1

प्र.45 सवातासाचे मिनीट किती ?

- ① ६०                      ② ४५  
③ ७५                      ④ १२५

Q.45 How many minutes of one and quarter hours ?

- ① 60                      ② 45                      ③ 75                      ④ 125

प्र.46 १ जानेवारी २०२४ ला सोमवार आहे तर १ जानेवारी २०२५ ला कोणता वार असेल ?

- ① रविवार                      ② सोमवार  
③ मंगळवार                      ④ बुधवार

Q.46 On 1<sup>st</sup> January 2024 is Monday, then on which day will be on 1<sup>st</sup> January 2025 ?

- ① Sunday                      ② Monday  
③ Tuesday                      ④ Wednesday

कच्च्या कामासाठी जागा.....



प्र.47 ५०० आणि २२५ यांच्यातील अंतर किती ?


- ① ७२५                      ② २७५  
③ २५०                      ④ ३७५

Q.47 What is the difference between 500 and 225 ?

- ① 725                      ② 275  
③ 250                      ④ 375

प्र.48 यातील एकूण चौकोन किती ?

- ① १०                      ② २०  
③ ३०                      ④ ४०



Q.48 How many rectangles are there in the figure ?

- ① 10    ② 20    ③ 30    ④ 40

प्र.49 एका रांगेत ४५ मुले अशा ४५ रांगांमधील एकूण मुले किती ?

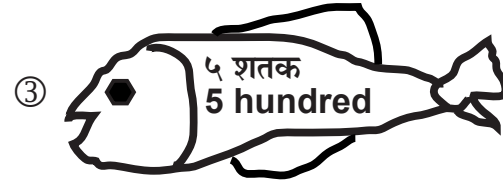
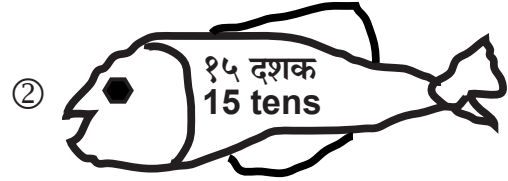
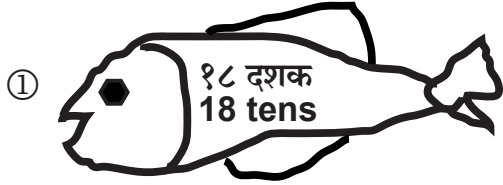
- ①  $४५ \times ४५$                       ②  $४५ + ४५$   
③  $४५ - ४५$                       ④  $४५ \div ४५$

Q.49 45 childrens are in a row, What is the total number of childrens in 45 rows ?

- ①  $४५ \times ४५$                       ②  $४५ + ४५$   
③  $४५ - ४५$                       ④  $४५ \div ४५$





प्र.50 कोणत्या माशाची किंमत सर्वात जास्त आहे ?

Q.50 Which fish shows the largest value ?



कच्च्या कामासाठी जागा.....

**PAPER-II : LANG. & INT. (Q.51 to 100)**

- Q.51** Choose the correct homophones --  
February is the time of the year when many people get cold and .....
- ① flew                      ② flue                      ③ flu                      ④ flyu
- Q.52** Choose the correct spelt word.
- ① Stomach                      ② Stumach                      ③ Stomoch                      ④ Stommuk
- Q.53** If your friend fell off his cycle and injured himself. Where would you take him ?
- ① Police station                      ② School                      ③ Office                      ④ Hospital
- Q.54** Which animal gives us eggs ?
- ① Bee                      ② Hen                      ③ Cow                      ④ Sheep
- Q.55** Who among the following was the President of India ?
- ①                       ②                       ③                       ④ 
- Q.56 to 62** In each of the following groups of words, one word is grammatically different. Identify the word :
- Q.56** ① peacock                      ② bull                      ③ bee                      ④ dog
- Q.57** ① niece                      ② lady                      ③ aunt                      ④ host
- Q.58** ① axis                      ② bases                      ③ locus                      ④ leaf
- Q.59** ① short                      ② large                      ③ Bulky                      ④ massive
- Q.60** ① legal - illegal                      ② honest - dishonest  
③ moral - dismoral                      ④ lucky - unlucky
- Q.61** ① foal                      ② cub                      ③ fawn                      ④ frog
- Q.62** ① Bee - hive                      ② bird - nest                      ③ spider - shell                      ④ mouse - hole
- Q.63** Choose the word indicating the sound of Dog.
- ① cackles                      ② chatters                      ③ caws                      ④ barks
- Q.64** Find the correct word that shows collection or group.  
grapes :                      ① bunch                      ② clump                      ③ bundle                      ④ group
- Q.65** Our new house needs some furniture, so Papa has called a .....
- ① plumber                      ② blacksmith                      ③ astrologer                      ④ carpenter


प्र.66 ते 71 खालील प्रत्येक गटात न बसणारे पद ओळखा.

- प्र.66 ① १०९ ② १३१ ③ ८०२ ④ ६०४  
 प्र.67 ① ४८४ ② २६४ ③ ४४४ ④ ३२६  
 प्र.68 ① सायली ② निकिता  
 ③ सुनिता ④ अवंतिका  
 प्र.69 ① भारत ② श्रीलंका  
 ③ पाकिस्तान ④ जपान


Q.66 to 71 Find the odd man out.

- Q.66 ① 109 ② 131  
 ③ 802 ④ 604  
 Q.67 ① 484 ② 264 ③ 444 ④ 326  
 Q.68 ① Sayali ② Nikita  
 ③ Sunita ④ Avantika  
 Q.69 ① Bharat ② Srilanka  
 ③ Pakistan ④ Japan

प्र.70



प्र.71



प्र.72 शंतनूला तीन काका आहेत. त्याचे एक काका मुंबईला राहतात तर मुंबईच्या काकांना किती भाऊ आहेत ?  
 ① २ ② ३  
 ③ ४ ④ १

Q.72 Shantanu has 3 uncles. One of his uncle lives in Mumbai. How many brothers has to his uncle living in Mumbai ?  
 ① 2 ② 3 ③ 4 ④ 1

प्र.73 ते 78 समान संबंध शोधा.

प्र.73 मे : जुलै :: ऑगस्ट : ?  
 ① डिसेंबर ② जून  
 ③ एप्रिल ④ नोव्हेंबर

Q.73 to 78 Find the same relation.

Q.73 May : July :: August : ?  
 ① December ② June  
 ③ April ④ November

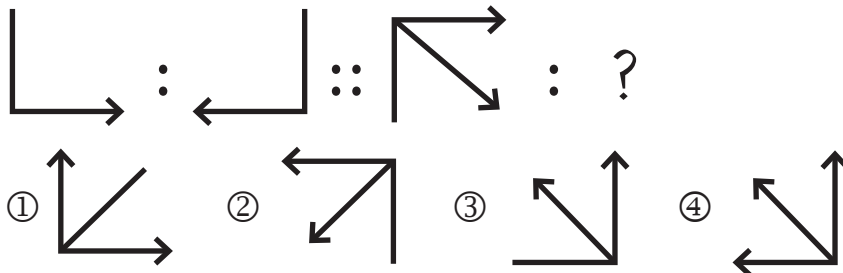
प्र.74 तरुण : म्हातारा :: आजी : ?

- ① आजोबा ② माजी  
 ③ आज्ञा ④ पाजी

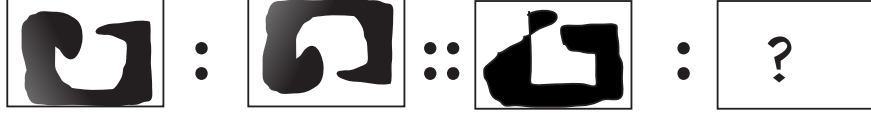
Q.74 Young : Old :: Former : ?

- ① Grandfather ② Existing  
 ③ Grandpa ④ Papaji

प्र.75



प्र.76



प्र.77

८८ : ४६ :: ७२ : ?

- ① ४९    ② ७४    ③ ३६    ④ १४४

Q.77

88 : 46 :: 72 : ?

- ① 41    ② 74    ③ 36    ④ 144

प्र.78

३९३ : १६६ :: ४८२ : ?

- ① १११    ② ६२६  
③ ५२९    ④ ८६२

Q.78

393 : 166 :: 482 : ?

- ① 111    ② 626  
③ 529    ④ 862

प्र.79

प न क ल प न ल प न क ल क ल न प  
या अक्षरमालेत सर्वात कमी वेळा आलेले  
अक्षर कोणते ?

- ① प    ② न    ③ क    ④ ल

Q.79

a p k r a p r a p k r k r p a -  
which letter has occurred the  
least time in the letter series ?

- ① a    ② p    ③ k    ④ r

प्र.80

एका सांकेतिक लिपीत उंदराला मांजर,  
मांजरीला कुत्रा, कुत्र्याला कोल्हा व  
कोल्हाला उंदीर म्हटले तर त्याच भाषेत  
रानटी प्राणी कोणता ?

- ① उंदीर    ② मांजर  
③ कुत्रा    ④ कोल्हा

Q.80

In a code language, mouse is  
called cat, cat is called dog, dog is  
called fox and fox is called mouse.  
Then which is the wild animal ?

- ① Mouse    ② Cat  
③ Dog    ④ Fox

प्र.81

जर ७९६ ला ९७६ तर ५२७ ला काय ?

- ① ७५२    ② ७२५  
③ २५७    ④ २७५

Q.81

If 796 to 976 then 527 = ?

- ① 752    ② 725  
③ 257    ④ 275

प्र.82

४२, ५७, ३३, ८८, ६७ यातील सर्वात  
लहान संख्येतील अंकांचा गुणाकार किती ?

- ① ८    ② ९  
③ ३५    ④ ५६

Q.82

42, 57, 33, 88, 67 what is the  
product of the digits of the  
smallest No ?

- ① 8    ② 9    ③ 35    ④ 56

प्र.83

५ ८ ४ ६ ४ ८ ९ ८ ४ ७ ८ ६ ६ ४ ७ ४  
या अंकमालेत ८ नंतर लगेच ४ किती वेळा  
आले आहेत ?

- ① एकदा    ② दोनदा  
③ तीनदा    ④ चारदा

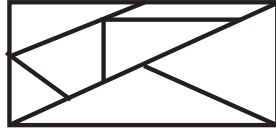
Q.83

5 8 4 6 4 8 9 8 4 7 8 6 6 4 7 4  
In the number series, how  
many times 4 comes after 8 ?

- ① one time    ② two times  
③ three times    ④ four times

प्र.84 सोबतच्या आकृतीत समाविष्ट एकूण त्रिकोण किती ?

- ① ६                      ② ७  
③ ८                      ④ ९



Q.84 How many triangles are included in the given figure ?

- ① 6                      ② 7  
③ 8                      ④ 9

प्र.85 ते 87 दिलेल्या मालिकेत क्रमाने काय येईल ?

प्र.85 कखग, काखागा, किखिगि, कीखीगी, ?

- ① चीछीजी                      ② कुखूगू  
③ कुखुगु                      ④ कूखूगू

Q.85 to 87 What will occur in the given series ?

Q.85 bcd, bacada, becede, bicidi, ?

- ① figihi                      ② bocudu  
③ bocodo                      ④ bududu

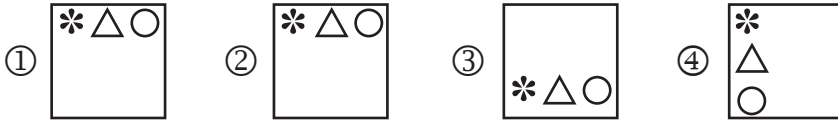
प्र.86 ५६०, ६७०, ७८०, ?

- ① ८९०                      ② ९९०  
③ ४५०                      ④ ९१००

Q.86 560, 670, 780, ?

- ① 890                      ② 990  
③ 450                      ④ 9100

प्र.87



प्र.88 खालील आकृतीची प्रतिमा आरशात कशी दिसेल ?



Q.88 Find the mirror image.

प्र.89 खालील आकृतीचे प्रतिबिंब पाण्यात कसे दिसेल ?



Q.89 Find the water image.

प्र.90 बैलाला आहे पण गाढवाला नाही असे काय ?

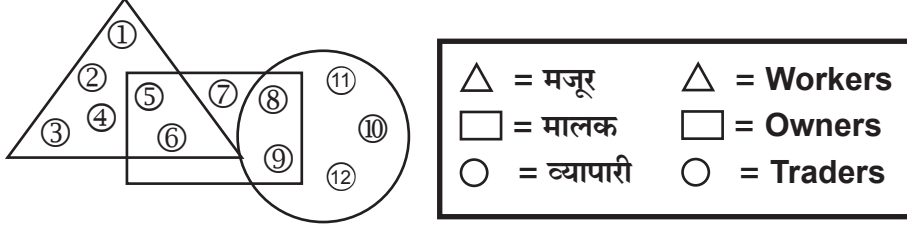
- ① कान                      ② शेपूट  
③ शिंगे                      ④ डोळे

Q.90 What is it ? A bull has but a donkey does not have

- ① ears                      ② tail  
③ horns                      ④ eyes

प्र.91 ते 93 दिलेली आकृती काळजीपूर्वक पहा व विचारलेल्या प्रश्नांची उत्तरे शोधा.

Q.91 to 93 Study the given figure carefully. Find the answer of the given question.



प्र.91 जे फक्त मालक आहेत अशांची एकूण संख्या किती ?

- ① ७    ② १३    ③ २०    ④ ४८

Q.91 How many persons are only owners ?

- ① 7    ② 13    ③ 20    ④ 48

प्र.92 जे मालक व्यापारी सुद्धा आहेत अशांची एकूण संख्या किती ?

- ① १७    ② ५०    ③ ३३    ④ १००

Q.92 How many owners are also traders ?

- ① 17    ② 50    ③ 33    ④ 100

प्र.93 जे मालक मजुरीसुद्धा करतात अशांची एकूण संख्या किती ?

- ① २०    ② २१    ③ ११    ④ २७

Q.93 How many owners are also workers ?

- ① 20    ② 21    ③ 11    ④ 27

प्र.94

32	18	14
66	24	18
64	82	?

प्रश्नचिन्हाच्या जागी येणारी संख्या कोणती ?

- ① १६    ② २०    ③ २२    ④ २८

Q.94

Which number will come in place of question mark ?

- ① 16    ② 20    ③ 22    ④ 28

प्र.95 ते 96 खालील मनोऱ्याचे निरीक्षण करुन योग्य उत्तराचा पर्यायांक छायांकित करा.

Q.95 to 96 Study the given pyramid and find correct option number.

क	ख	ग	घ	च
ट	झ	ज	छ	
ठ	ड	ढ		
त	ण			
थ				

A	B	C	D	E
F	G	H	I	
J	K	L		
M	N			
O				

प्र.95 क ख ट : घ च छ :: ट झ ठ : ?

- ① ज छ ढ                      ② छ ज ढ  
③ झ ज ड                      ④ ढ छ ज

Q.95 ABF : DEI :: FGJ : ?

- ① HIL                              ② IHL  
③ GHK                              ④ LIH

प्र.96 ख झ ड : ड झ ज :: ट ठ त : ?

- ① त थ ड                              ② त ठ ड  
③ छ ढ ड                              ④ त ड ठ

Q.96 BGJ : DHL :: GKM : ?

- ① NKH                              ② HKN  
③ GKL                              ④ LKN



ही सूचना आम्ही वाचली नाही.लक्षात राहिले नाही.असे कृपया सांगू नका.

परीक्षेनंतर १० ते १५ दिवसांत फक्त एक महिन्यासाठी विद्यार्थ्यांनी सोडविलेल्या उत्तरपत्रिका स्कॅन करून वेबसाईटवर टाकल्या जातील.आमच्या उत्तरसूचीत काही दोष असल्यास उत्तरसूची जाहीर झाल्यापासून १० दिवसांचे आत स्पष्टीकरणासह पोष्टाने जळगाव कार्यालयात लेखी कळवावे. मेलवर किंवा व्हॉट्सअपवर पाठवू नये. आमच्या उत्तरसूचित काही दोष असल्यास ते दूर करूनच निकाल तयार केला जातो. प्रश्नच चुकीचा असेल तर त्याचे गुण सर्वांनाच दिले जातात.आपल्या पाल्याची उत्तरपत्रिका डाऊनलोड करून ठेवावी. पुढे केव्हाही तक्रार करताना तिची प्रिंट आवश्यक असते. याबाबत कोणीही फोन करू नये. वेबसाईट वरील सूचना वाचाव्यात. आपला पाल्य राज्यस्तरीय गुणवत्ता यादीत आल्यास त्याच्या स्कॉलरशीपचा अकॉउंटपेयी चेक त्याच्याच नावाने एकदाच दिला जातो. म्हणून विद्यार्थ्यांच्या नावाने बँकेत खाते काढून ठेवा.आम्ही दिलेल्या चेकवरील नाव अगर तारीख बदलून दिली जात नाही. आपला पाल्य केंद्रस्तरीय गुणवत्ता यादीत आल्यास त्याला ट्रॉफी मिळेल. गुणपत्रिका, गुणवत्ताधारकांचे ट्रॉफी व प्रशस्तिपत्र जूनमध्ये शाळा सुरू झाल्यावर १५ ते २० दिवसांनी स्थानिक प्रतिनिधीमार्फत शाळेतच मिळतात. याबाबत आपल्या स्थानिक प्रतिनिधीशी संपर्क करावा. आमचेकडे संगणक, इंटरनेट नाही, आम्ही निकाल वेळेत पाहिला नाही, आम्हाला शाळेत किंवा कोणी सांगितले नाही ही कारणे चालणार नाहीत. सर्वांसाठी एकच नियम असेल.वेळोवेळी आमच्या संकेत स्थळावरील सूचना वाचत रहा. १५ ऑगस्ट २०२४ नंतर या परीक्षेचे कोणतेही रेकॉर्ड उपलब्ध नसेल.निकाल मिळाला नाही तर प्रथम आपल्या स्थानिक एमटीएस प्रतिनिधींशी संपर्क करा. नंतरच आमचेकडे लेखी तक्रार करा.सर्व पत्रव्यवहार पोस्टाने अगर कुरीअरने आमचे जळगाव पत्त्यावर करावा. मेलवर किंवा व्हॉट्सअपवर काहीही पाठवू नये. परीक्षेनंतर निकालापर्यंत कोणीही मोबाईलवर संपर्क करू नये. या काळात मोबाईलवर अनोळखी नंबर रिसिव्ह केले जात नाहीत. त्यामुळे गैरसमज निर्माण होतात.

उत्तरपत्रिका फेरतपासणी अर्ज नमुना ( अंतिम मुदत : २८/०२/२०२४ )

विद्यार्थ्यांचे नाव -

बैठक क्रमांक -

परीक्षेचे माध्यम -

परीक्षेचे सेंटर -

पालकांचा घरचा पूर्ण पत्ता - पीनकोड (आवश्यक)

पालकांचा मोबाईल नंबर -

सोबत जोडावयाची वेबसाईट वरून काढलेली कागदपत्रे -

(१) गुणपत्रिका, (२) विद्यार्थ्यांची उत्तरपत्रिका, (३) आमची उत्तरसूची, (४) MAHARASHTRA

TALENT SEARCH PARIKSHA JALGAON या नावाचा रु.७००/- चा सरकारी बँकेचा डीडी व

(५) स्वतःच्या घरच्या पत्त्याचे तिकीट नसलेले पाकीट, (६) परीक्षेचे हॉलतिकीट

यापैकी एकही कागद नसल्यास फेरतपासणी होणार नाही. फेरतपासणीत गुणांत बदल होऊ शकतो.

गुण कमीही होऊ शकतात.वाढूही शकतात. गुणांची वाढ झाल्यास रु.७००/- चा हाच डीडी परत

केला जाईल. फेरतपासणी नंतर विद्यार्थ्यांच्या उत्तरपत्रिकेची रंगीत झेरॉक्स प्रत दिली जाते.

3

पालकाची सही

विद्यार्थ्यांची सही

तिसरी ३२८१२४

www.mtsjalgaon.co.in

16